

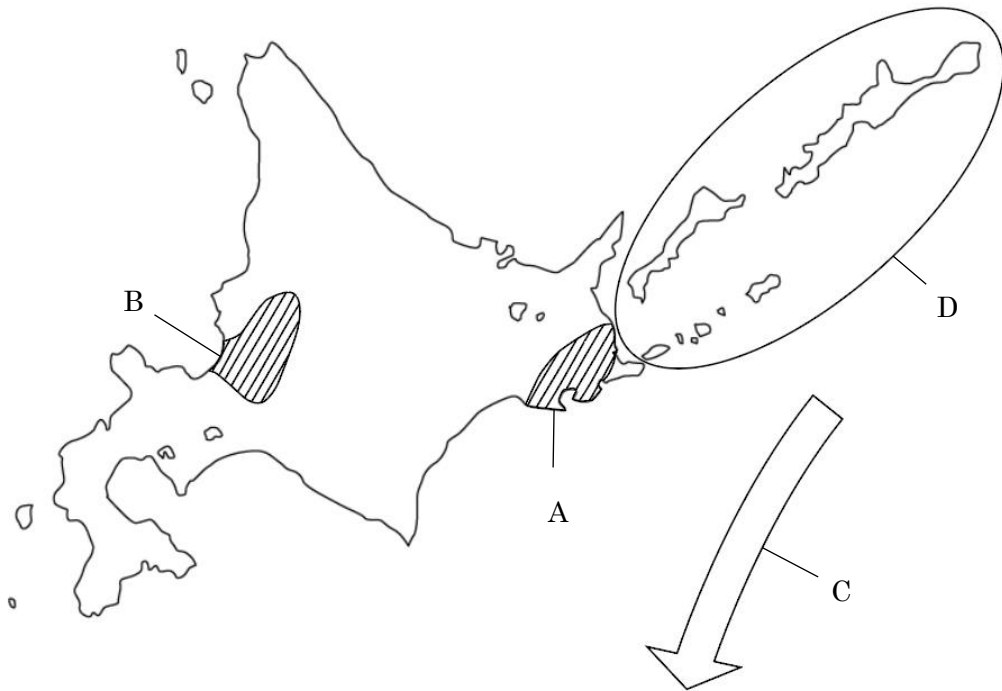
1 下の地図は北海道を表しています。次の文章を読み、以下の問いに答えなさい。

地図中のAで示した根釧台地は火山灰がつもった土地で気温も低いため、農作物を育てるにはむかない土地でした。そこで①政府の実験農場が作られました。この地域を中心に、北海道ではさまざまな動物を飼育してきました。

また、B平野も農業にむかない土壌でしたが、長年にわたる表土の改良の努力により、②B平野は今では上川盆地とならんで米の生産が大変さかんです。

③北海道には昔から先住民族が住んでいて、動物の狩りをしたり木の実を収集したり、川で魚をとったりして暮らしてきました。札幌をはじめ北海道の地名にはこの先住民族の**ことば**をもとにしたものがたくさんあります。

なお、④地図中の矢印Cの方向に海流が流れており、豊かな漁場をかたちづくっています。



(作問者による作図)

問1 下線部①について、現在この地域で最もさかんに行われている農業として適切なものはどれか、次のア～エから1つ選び、記号で答えなさい。

- ア たくさんの牛が飼育され、牛乳から乳製品が生産されている。
- イ たくさんの鶏が飼育され、質の良い卵が生産されている。
- ウ たくさんの豚が飼育され、味の良い豚肉は世界で好まれている。
- エ たくさんの羊が飼育され、質の良い織物がつくられている。

問2 下線部②について、B平野の名前を漢字で答えなさい。

問3 下線部③について、この先住民は何と呼ばれているか答えなさい。

問4 下線部④について、この海流として正しいものはどれか、次のア～エから1つ選び、記号で答えなさい。

- ア リマン海流 イ 日本海流 ウ 千島海流 エ 対馬海流

問5 この地図中のDの島々は、まとめて何と呼ばれているか、漢字で答えなさい。

2 次の文章を読み、以下の問いに答えなさい。

① 世界遺産は、国際連合の専門機関が人類共通の財産として大切に守り、次の世代に受け継いでゆくべきものとして認定した遺跡、景観、自然などを指します。日本にも 20 をこえる世界遺産があります。

日本で初めて鉄道が走った 1872 年からちょうど 150 年目の 2022 年に、また一つ新しい新幹線の営業運転が始まりました。② この新幹線は、西九州新幹線と呼ばれ現在のところ、長崎県と九州のある県の間を結んでいます。長崎は江戸時代のキリスト教信仰を伝える集落や遺跡が評価され、世界遺産となりました。

③ 広島市は中国地方で最大の町です。また、第二次世界大戦の末期に世界ではじめて原子爆弾が投下された町です。原子爆弾で破壊された原爆ドームは、戦争の悲惨さを伝えるものとして世界遺産になっています。

④ 日本で一番西よりにある都道府県は沖縄県です。かつて琉球とよばれて独自の文化を築いた時代に王や豪族たちが建てたグスクとよばれる城の遺跡が世界遺産として登録されています。

⑤ 小笠原諸島は日本本土から約 1000 キロメートルはなれた海上にあり、30 あまりの島々からなります。独自の進化をとげた動物や植物が生息しており、小笠原諸島はそこに住む生き物の独自性が評価され、世界遺産となっています。

問 1 下線部①について、世界遺産を担当している機関の略称は何か、次のア～エから 1 つ選び、記号で答えなさい。

- | | |
|-----------------------|----------------|
| ア UNICEF (国連児童基金) | イ WHO (世界保健機関) |
| ウ UNESCO (国連教育科学文化機関) | エ IMF (国際通貨基金) |

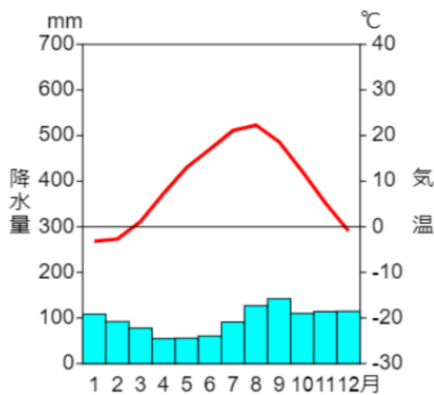
問 2 下線部②について、この新幹線は長崎県とどの県の間を走っているか、次のア～エから 1 つ選び、記号で答えなさい。

- ア 熊本県 イ 鹿児島県 ウ 宮崎県 エ 佐賀県

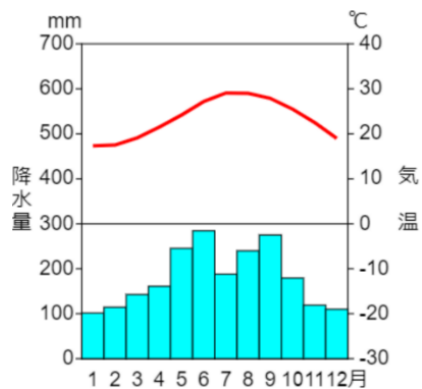
問3 下線部③について、この都市が県庁所在地になっている広島県で最もさかんに養殖されている海産物を次のア～エから1つ選び、記号で答えなさい。

ア かき イ さけ ウ こんぶ エ しじみ

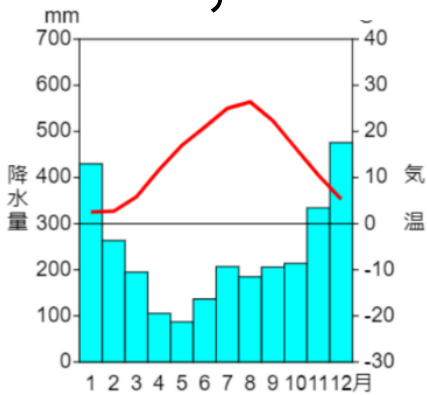
問4 下線部④について、沖縄県の気候を表す雨温図として最も適切なものを次のア～エから1つ選び、記号で答えなさい。



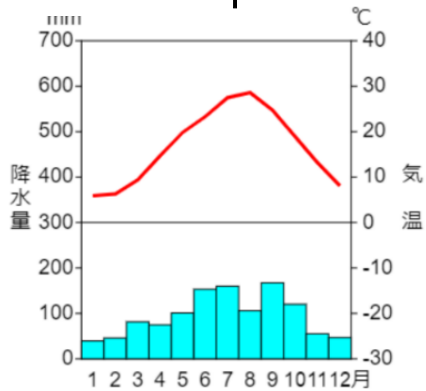
ア



イ



ウ



エ

(作問者による作図)

問5 下線部⑤について、下の写真は小笠原諸島の一つである沖ノ鳥島です。
沖ノ鳥島は、多額の費用をかけて護岸の工事をしました。なぜ工事をした
のか、理由を答えなさい。



(『新詳地理資料 2022』(帝国書院)より引用)

3 次の文章を読み、下の問いに答えなさい。

【A】

邪馬台国の女王卑弥呼は、まじないの力で周辺のクニをまとめました。また中国の皇帝から称号と銅鏡と①金印を授かりました。このことが、魏志倭人伝ぎしわじんてんに記載されています。

【B】

中臣鎌足は中大兄皇子に協力して蘇我氏を倒して、天皇中心の国づくりのための政治改革をおこないました。子である（ 2 ）は刑部親王とともに、日本で初めての本格的な律令である大宝律令をつくりました。

【C】

桓武天皇は仏教勢力の強い平城京をさけて長岡京に都を移し、794年には平安京に都を移して③律令政治の立てなおしをしました。遣唐使とともに中国に渡った最澄さいしやうと空海くうかいが新しい仏教の宗派を伝え天皇はこれを保護しました。また、東北地方への支配を強化しました。

【D】

保元の乱で後白河天皇側について勝利し、平治の乱で源義朝を倒した平清盛は武士として初めて太政大臣に任命されました。「祇園精舎ぎおんしやうじやの鐘かねの声」の冒頭で知られる『平家物語』には④平氏の栄枯盛衰えいこせいけいのようすが語られています。

【E】

3代将軍足利義満は、南北朝の争乱を終わらせ、大きな力を持ちすぎていた守護大名の力をおさえて幕府を安定させました。また、⑤日明貿易をおこない、大量の明銭や木綿などを輸入しました。

問1 下線部①について、紀元1世紀ごろにも小国の王が金印をうけたという記述が中国の歴史書に出てきます。この歴史書はどの王朝のものか、正しいものを次のア～エから1つ選び、記号で答えなさい。

ア 秦 イ 漢 ウ 唐 エ 宋

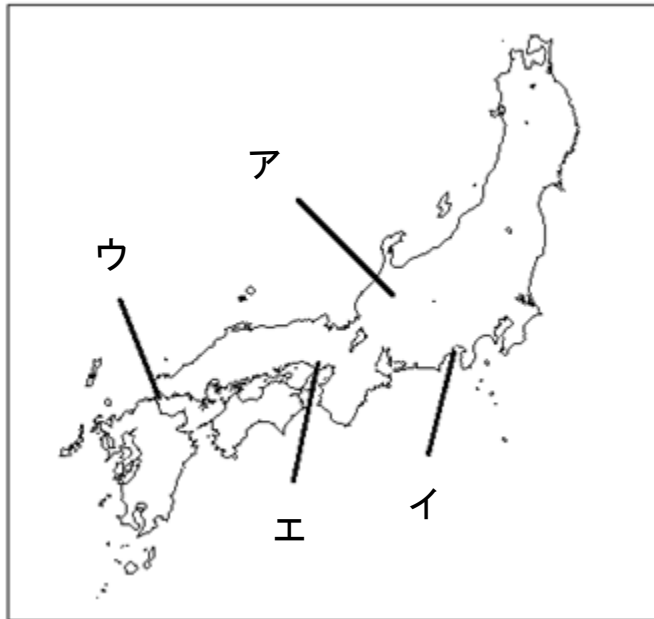
問2 (2) にあてはまる人物名として、正しいものを次のア～エから1つ選び、記号で答えなさい。

ア 藤原道長 イ 藤原頼通 ウ 藤原不比等 エ 藤原定家

問3 下線部③の内容について、適切でないものを次のア～エから1つ選び、記号で答えなさい。

- ア 口分田の不足を解消し開墾地を増やすために三世一身法を出した。
- イ 農民からの徴兵をやめ、郡司の子弟による軍隊をつくった。
- ウ 班田の間隔を6年から12年に延長した。
- エ 地方の政治を任されていた国司の不正を正すための役職をつくった。

問4 下線部④について、源平の合戦で平氏が滅亡した場所として、正しいものを次の図のア～エから1つ選び、記号で答えなさい。



(作問者による作図)

問5 下線部⑤について、日本からの正式な貿易船は「勘合」を持っていかねければなりません。その理由を説明しなさい。

4 次の年表を見て、下の問いに答えなさい。

年号	おもなできごと
1603	江戸幕府がひらかれる
1623	家光が3代将軍になる
1641	①鎖国が完成する
1716	8代将軍吉宗による②享保 <small>きょうほう</small> の改革が始まる
1772	田沼意次が老中になる
1787	老中（ 3 ）による寛政 <small>かんせい</small> の改革が始まる
1837	大塩平八郎の乱がおきる
1841	水野忠邦による天保 <small>てんぽう</small> の改革が始まる
1867	15代将軍慶喜が政権を朝廷に返す
1868	④江戸を東京とする

問1 下線部①の内容について、適切でないものを次のア～エから1つ選び、記号で答えなさい。

- ア 絵ふみをおこなってキリスト教を厳しく取り締まった。
- イ 貿易の相手国をスペインと中国に限定した。
- ウ 貿易の場所となった長崎には、出島がつくられた。
- エ 貿易は江戸幕府が独占した。

問2 下線部②について、庶民の意見を政治にいかすために設置されたものを漢字3字で答えなさい。

問3 （ 3 ）にあてはまる人物名を答えなさい。

問4 江戸時代後期の総人口は約 3200 万人であった。このうち約 85%を占めた身分として正しいものを次のア～エから1つ選び、記号で答えなさい。

ア 公家 イ 町人 ウ 武士 エ 百姓

問5 下線部④のあとにおこった出来事について、次のア～エを年代の古い順番に並べた場合に3番目にくるのはどれか、記号で答えなさい。

- ア 天皇が国民にあたえるという形で大日本帝国憲法が発布された。
- イ 普通選挙制度が定められ、25歳以上の男子に選挙権があたえられた。
- ウ 20歳以上の男子に3年間の兵役を義務とする徴兵令が出された。
- エ 条約改正に成功し関税自主権が回復した。

5 下の表は 2022 年のニュースの一部です。これを読み、以下の問いに答えなさい。

	ニュースの内容
2月	ロシア軍が、① <u>ウクライナ</u> の軍事施設に対する攻撃を始めたと発表し、ロシアによる軍事侵攻が始まった。
3月	東京電力管内などで、② <u>電力の提供</u> と消費の兼ね合いが厳しい状況だとして、政府は初めて「電力需給ひっ迫警報」を出した。
6月	香港は1日、中国に返還されてから25年の節目の日を迎え、香港では記念の式典が開かれた。
8月	総務省は住民基本台帳に基づく2022年1月1日現在の日本人の総人口を約(③)億人と公表した。
9月	エリザベス女王が96歳で亡くなり、国葬はロンドンのウェストミンスター寺院で行われた。
10月	④ <u>臨時国会</u> が召集され、岸田首相が衆参両院本会議で所信表明演説を行い、経済再生を「最優先の課題」と位置づけた。

問1 下線部①について、その国の首都の位置を下の地図中のア～エから1つ選び、記号で答えなさい。



(作問者による作図)

問2 下線部②について、日本における発電の説明として正しいものを、次のア～エから1つ選び、記号で答えなさい。

- ア 再生可能エネルギー発電が発電量の大部分を占めている。
- イ 原子力発電が発電量の大部分を占めている
- ウ 火力発電が発電量の大部分を占めている。
- エ 再生可能エネルギー発電では液化天然ガスを使用している。

問3 (③) に当てはまる最も近い数字を次のア～エから1つ選び、記号で答えなさい。

- ア 0.8 イ 1.2 ウ 1.6 エ 2.0

問4 下線部④について、以下の文章は、日本国憲法第4章の第41条です。
() に当てはまる語句を漢字2字で答えなさい。

国会は、国権の最高機関であつて、国の唯一の () 機関である。

問5 表中の6月と9月のニュースに共通して最も関係が深い国を次のア～エから1つ選び、記号で答えなさい。

- ア アメリカ イ イギリス ウ エジプト エ オーストラリア

問題は以上です。

受験番号						氏名

1

問 1	
-----	--

問 2	
-----	--

問 3	
-----	--

問 4	
-----	--

問 5	
-----	--

2

問 1	
-----	--

問 2	
-----	--

問 3	
-----	--

問 4	
-----	--

問 5	
-----	--

3

問 1

問 2

問 3

問 4

問 5

4

問 1

問 2

問 3

問 4

問 5

5

問 1

問 2

問 3

問 4

問 5